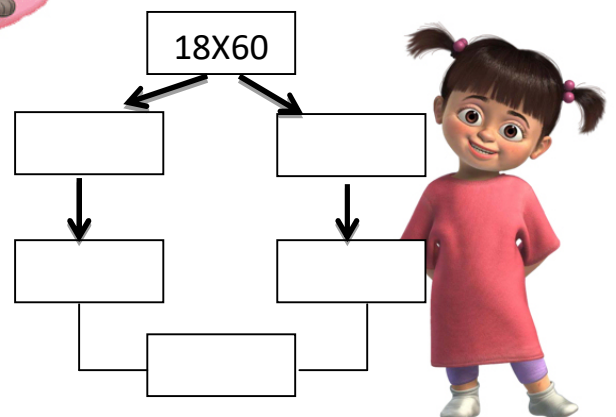
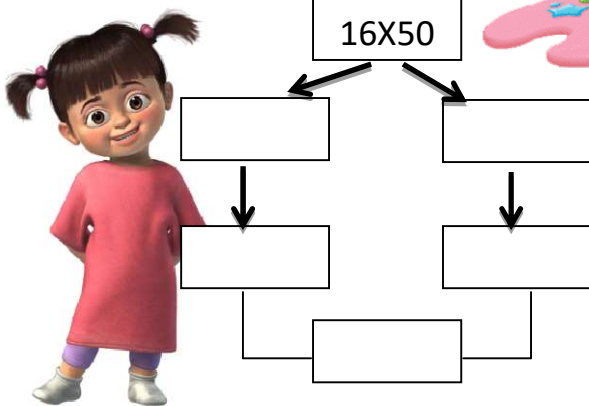
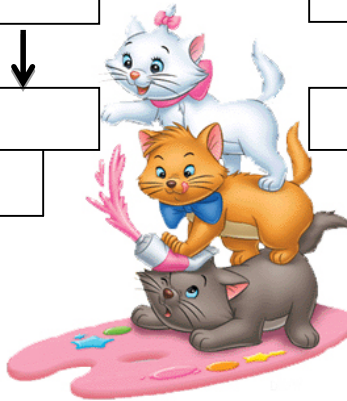
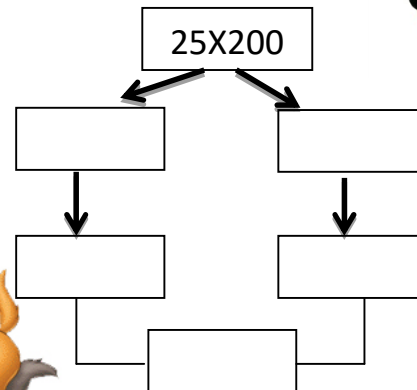
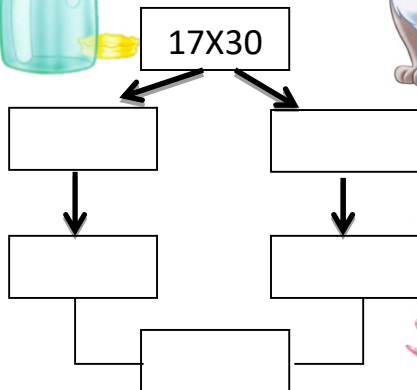
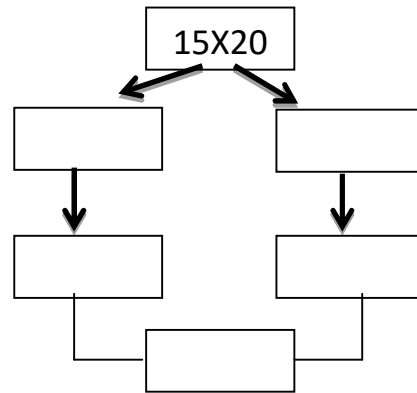
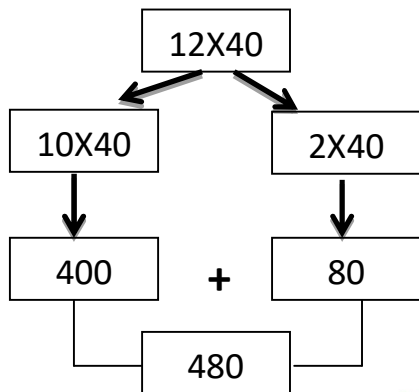


ΜΑΘΗΜΑΤΙΚΑ Δ' ΤΑΞΗ- Ενότητα 10

Όνομα:.....



1. Υπολόγισε τα παρακάτω γινόμενα σύμφωνα με το παράδειγμα:



2. Συμπλήρωσε τα αποτελέσματα:

2X6=.....

3X6=.....

4X6=.....

5X6=.....

6X6=.....

7X6=.....

8X6=.....

9X6=.....

2X7=.....

3X7=.....

4X7=.....

5X7=.....

6X7=.....

7X7=.....

8X7=.....

9X7=.....

3. Λύσε τα παρακάτω προβλήματα:

- Σ' ένα περιβόλι είναι φυτεμένες 8 σειρές πορτοκαλιές. Σε κάθε σειρά υπάρχουν 35 πορτοκαλιές. Πόσες πορτοκαλιές έχει το περιβόλι;



Απάντηση:.....

- Ο χρόνος έχει 12 μήνες. Ο Γιάννης είναι 13 χρονών. Πόσων μηνών είναι;



Απάντηση :.....

- Η εβδομάδα έχει 7 ημέρες και ο χρόνος έχει 52 εβδομάδες. Πόσες μέρες έχει ο χρόνος;

Απάντηση:.....

- Το ύψος του Ολύμπου είναι 2.917 μέτρα και το ύψος του Ψηλορείτη της Κρήτης 2.456 μέτρα. Ποια είναι η διαφορά ύψους των δυο βουνών;

Απάντηση :.....

- 28 μαθητές της Δ' τάξης παρακολούθησαν μια θεατρική παράσταση και πλήρωσαν 12 € ο καθένας. Πόσα χρήματα πλήρωσε όλη η τάξη;



Απάντηση:.....

- Μια αγελάδα βγάζει την ημέρα 23 κιλά γάλα. Πόσο γάλα βγάζουν το μήνα 15 όμοιες αγελάδες;

Απάντηση :.....